

«УТВЕРЖДАЮ»

Директор

ФГБНУ «Федеральный институт
педагогических измерений»

О.А. Решетникова

«03» сентября 2015 г.

«СОГЛАСОВАНО»

Председатель

Научно-методического совета
ФГБНУ «ФИПИ» по истории

Е.И. Пивовар

«03» сентября 2015 г.

Демонстрационный вариант
контрольных измерительных материалов единого
государственного экзамена 2016 года
по истории

подготовлен Федеральным государственным бюджетным
научным учреждением

«ФЕДЕРАЛЬНЫЙ ИНСТИТУТ ПЕДАГОГИЧЕСКИХ ИЗМЕРЕНИЙ»

Единый государственный экзамен по ИСТОРИИ

**Пояснения к демонстрационному варианту контрольных
измерительных материалов единого государственного экзамена
2016 года по ИСТОРИИ**

При ознакомлении с демонстрационным вариантом контрольных измерительных материалов ЕГЭ 2016 г. следует иметь в виду, что задания, включённые в него, не отражают всех вопросов содержания, которые будут проверяться с помощью вариантов КИМ в 2016 г. Полный перечень вопросов, которые могут контролироваться на едином государственном экзамене 2016 г., приведён в кодификаторе элементов содержания и требований к уровню подготовки выпускников образовательных организаций для проведения единого государственного экзамена 2016 г. по истории.

Назначение демонстрационного варианта заключается в том, чтобы дать возможность любому участнику ЕГЭ и широкой общественности составить представление о структуре будущих КИМ, количестве заданий, об их форме и уровне сложности. Приведённые критерии оценки выполнения заданий с развёрнутым ответом, включённые в этот вариант, дают представление о требованиях к полноте и правильности записи развёрнутого ответа.

Эти сведения позволяют выпускникам выработать стратегию подготовки к ЕГЭ.

**Демонстрационный вариант
контрольных измерительных материалов
для проведения в 2016 году единого государственного экзамена
по ИСТОРИИ**

Инструкция по выполнению работы

Экзаменационная работа состоит из двух частей, включающих в себя 25 заданий. Часть 1 содержит 19 заданий, часть 2 содержит 6 заданий.

На выполнение экзаменационной работы по истории отводится 3 часа 55 минут (235 минут).

Ответы к заданиям 1–19 записываются по приведённым ниже образцам в виде последовательности цифр, цифры или слова (словосочетания). Ответ запишите в поле ответа в тексте работы, а затем перенесите в бланк ответов № 1.

КИМ Ответ:

4

3	4																	
---	---	--	--	--	--	--	--	--	--	--	--	--	--	--	--	--	--	--

 Бланк

КИМ Ответ:

А	Б	В	Г
3	1	4	2

9	3	1	4	2														
---	---	---	---	---	--	--	--	--	--	--	--	--	--	--	--	--	--	--

 Бланк

Ответ: НИКОЛАЙ ВТОРОЙ

10	Н	И	К	О	Л	А	Й	В	Т	О	Р	О	Й											
----	---	---	---	---	---	---	---	---	---	---	---	---	---	--	--	--	--	--	--	--	--	--	--	--

Ответ:

1	3	2	4	5
---	---	---	---	---

12	1	3	2	4	5																			
----	---	---	---	---	---	--	--	--	--	--	--	--	--	--	--	--	--	--	--	--	--	--	--	--

Задания части 2 (20–25) требуют развёрнутого ответа. В бланке ответов № 2 укажите номер задания и запишите ответ к нему.

Все бланки ЕГЭ заполняются яркими чёрными чернилами. Допускается использование гелевой, или капиллярной, или перьевой ручки.

При выполнении заданий можно пользоваться черновиком. Записи в черновике не учитываются при оценивании работы.

Баллы, полученные Вами за выполненные задания, суммируются. Постарайтесь выполнить как можно больше заданий и набрать наибольшее количество баллов.

Желаем успеха!

Часть 1

Ответами к заданиям 1–19 являются последовательность цифр, цифра или слово (словосочетание). Сначала укажите ответы в тексте работы, а затем перенесите их в БЛАНК ОТВЕТОВ № 1 справа от номера соответствующего задания, начиная с первой клеточки, без пробелов, запятых и других дополнительных символов. Каждую цифру или букву пишите в отдельной клеточке в соответствии с приведёнными в бланке образцами. Имена российских государей следует писать только буквами (например: НиколайВторой).

1 Расположите в хронологической последовательности исторические события. Запишите цифры, которыми обозначены исторические события, в правильной последовательности в таблицу.

- 1) Крымская война
- 2) реформа патриарха Никона
- 3) падение Византийской империи

Ответ:

--	--	--

2 Установите соответствие между событиями и годами: к каждой позиции первого столбца подберите соответствующую позицию из второго столбца.

СОБЫТИЯ

ГОДЫ

- | | |
|--|------------|
| А) первое упоминание Москвы в летописи | 1) 988 г. |
| Б) Карибский кризис | 2) 1147 г. |
| В) Бородинская битва | 3) 1662 г. |
| Г) Медный бунт | 4) 1812 г. |
| | 5) 1939 г. |
| | 6) 1962 г. |

Запишите в таблицу выбранные цифры под соответствующими буквами.

Ответ:

А	Б	В	Г

3 Ниже приведён список терминов. Все они, за исключением одного, относятся к событиям (явлениям) XIX в.

- 1) *вольные хлебопашцы*; 2) *министерства*; 3) *декабристы*;
4) *третьеиюньский переворот*; 5) *мировые судьи*; 6) *военные поселения*.

Найдите и запишите порядковый номер термина, относящегося к другому историческому периоду.

Ответ:

4 Запишите термин, о котором идёт речь.
Основная часть территории России, не включённая в опричнину Иваном IV.

Ответ: _____.

5 Установите соответствие между процессами (явлениями, событиями) и фактами, относящимися к этим процессам (явлениям, событиям): к каждой позиции первого столбца подберите соответствующую позицию из второго столбца.

**ПРОЦЕССЫ (ЯВЛЕНИЯ,
СОБЫТИЯ)**

- А) формирование и развитие законодательства Древнерусского государства
Б) реформы «Избранной рады»
В) проведение политики «просвещённого абсолютизма» в России
Г) первые революционные преобразования большевиков

ФАКТЫ

- 1) созыв Уложенной комиссии
2) принятие Судебника Ивана III
3) созыв первого Земского собора
4) принятие Декрета о земле
5) принятие Русской Правды
6) создание Временного правительства

Запишите в таблицу выбранные цифры под соответствующими буквами.

Ответ:

А	Б	В	Г
<input type="text"/>	<input type="text"/>	<input type="text"/>	<input type="text"/>

6 Установите соответствие между фрагментами исторических источников и их краткими характеристиками: к каждому фрагменту, обозначенному буквой, подберите по две соответствующие характеристики, обозначенные цифрами.

ФРАГМЕНТЫ ИСТОЧНИКОВ

А)	«Дворы, между коими заключён Парижский трактат... вместе с прочими государями и державами, им союзными... повелели своим полномочным составить... один главный трактат и присоединить к оному как неотдельные части все прочие положения конгресса. ...Герцогство Варшавское, за исключением тех областей и округов, коим в нижеследующих статьях положено иное назначение, навсегда присоединяется к Российской империи. Оно в силу своей конституции будет в неразрывной с Россией связи и во владении его величества императора всероссийского, наследников его и преемников на вечные времена. Его императорское величество предполагает даровать, по своему благоусмотрению, внутреннее устройство сему государству, имеющему состоять под особенным управлением. Его величество сообразно с существующим в рассуждении прочих его титулов обычаем и порядком присовокупит к оным и титул царя (короля) польского».
Б)	«Его королевское величество Свейское уступает сим за себя и своих потомков и наследников свейского престола и королевства Свейского его царскому величеству и его потомкам и наследникам Российского государства в совершенное неприкословное вечное впадение и собственность в сей войне, чрез его царское величество оружия от короны Свейской завоёванные провинции: Лифляндию, Эстляндию, Ингерманландию и часть Карелии с дистриктом Выборгского лена. ...Против того же его царское величество обещает в 4 недели по размене ратификаций о сем мирном трактате или прежде, ежели возможно, его королевскому величеству и короне Свейской возвратить... Великое княжество Финляндское...»

ХАРАКТЕРИСТИКИ

- 1) Данный договор был подписан в Берлине.
- 2) По данному договору Россия получила выход к Балтийскому морю.
- 3) Данный договор был подписан в Вене.
- 4) Современником подписания данного договора был А.Л. Ордин-Нащокин.
- 5) Данный договор был подписан по результатам Северной войны.
- 6) На территории, присоединённой к России по данному договору, в начале 1830-х гг. произошло мощное восстание.

Запишите в таблицу выбранные цифры под соответствующими буквами.

Ответ:

	Фрагмент А	Фрагмент Б
<input type="text"/>	<input type="text"/>	<input type="text"/>

7 Что из перечисленного относится к новой экономической политике (1921–1928 гг.)? Выберите три ответа и запишите в таблицу цифры, под которыми они указаны.

- 1) утверждение частной собственности на землю
- 2) введение хозрасчёта на государственных предприятиях
- 3) денационализация тяжёлой промышленности
- 4) появление кредитно-банковской системы и бирж
- 5) отмена государственной монополии внешней торговли
- 6) введение концессий

Ответ:

--	--	--

8 Заполните пропуски в данных предложениях, используя приведённый ниже список пропущенных элементов: для каждого предложения, обозначенного буквой и содержащего пропуск, выберите номер нужного элемента.

А) _____ конференция «Большой тройки» проходила в 1943 г.

Б) Один из первых таранов в ночном воздушном бою произвёл советский лётчик _____, сбивший на подступах к Москве вражеский бомбардировщик.

В) В ходе Курской битвы произошло крупнейшее танковое сражение у _____.

Пропущенные элементы:

- 1) Ялтинская (Крымская)
- 2) Н.Ф. Гастелло
- 3) станция Прохоровка
- 4) Тегеранская
- 5) В.В. Талалихин
- 6) разъезд Дубосеково

Запишите в таблицу выбранные цифры под соответствующими буквами.

Ответ:

А	Б	В

9 Установите соответствие между событиями и участниками этих событий: к каждой позиции первого столбца подберите соответствующую позицию из второго столбца.

СОБЫТИЯ

- А) Ледовое побоище
- Б) Ливонская война
- В) Полтавская битва
- Г) разгром армии П.Н. Врангеля в Крыму

УЧАСТНИКИ

- 1) А.А. Брусилов
- 2) Андрей Боголюбский
- 3) А.М. Курбский
- 4) Александр Невский
- 5) А.Д. Меншиков
- 6) М.В. Фрунзе

Запишите в таблицу выбранные цифры под соответствующими буквами.

Ответ:

А	Б	В	Г

10 Прочтите отрывок из воспоминаний и напишите фамилию автора.

«Я видел не только бесполезность, но и вред совмещения постов, и я даже ссылался: "Представьте моё положение, я критиковал Сталина за совмещение в одном лице двух таких ответственных постов в государстве и в партии, а теперь сам..." Выношу этот вопрос на суд историков. Сказалась моя слабость, а может быть, подтачивал меня внутренний червячок, ослабляя моё сопротивление. Ещё до того, как я стал Председателем Совета Министров СССР, Булганин внёс предложение назначить меня как первого секретаря ЦК КПСС Главнокомандующим вооружёнными силами. Тем более что в Президиуме ЦК военные вопросы, армия, вооружение относились к моей епархии. Это произошло без публикации в печати и было решено сугубо внутренним образом, на случай войны. Внутри вооружённых сил об этом известили высший командный состав».

Ответ: _____.

- 11** Заполните пустые ячейки таблицы, используя приведённый ниже список пропущенных элементов: для каждого пропуска, обозначенного буквой, выберите номер нужного элемента.

Событие	Месяц, год	Участник(-и)
Операция «Багратион»	_____ (А)	И.Х. Баграмян, И.Д. Черняховский
Сталинградская битва	_____ (Б)	_____ (В)
_____ (Г)	Июнь 1944 г.	Дуайт Эйзенхауэр Бернард Монтгомери
Московская битва	_____ (Д)	_____ (Е)

Пропущенные элементы:

- 1) М.А. Егоров, М.В. Кантария
- 2) сентябрь 1941 г. – апрель 1942 г.
- 3) Я.Ф. Павлов
- 4) капитуляция группировки итало-немецких войск в Северной Африке
- 5) открытие Второго фронта во Франции
- 6) июнь – август 1944 г.
- 7) июль 1942 г. – февраль 1943 г.
- 8) И.В. Панфилов
- 9) май 1942 г.

Запишите в таблицу выбранные цифры под соответствующими буквами.

А	Б	В	Г	Д	Е

Ответ:

- 12** Прочтите отрывок из телеграммы военачальника.
- «Все отлично сознавали, что при создавшейся обстановке и при фактическом руководстве и направлении внутренней политики безответственными общественными организациями, а также громадного разлагающего влияния этих организаций на массу армии последнюю воссоздать не удастся, а наоборот, армия как таковая должна развалиться через два-три месяца. И тогда Россия должна будет заключить позорный сепаратный мир, последствия которого были бы для России ужасны. Правительство принимало полумеры, которые, ничего не поправляя, лишь затягивали агонию, и, спасая революцию, не спасало Россию. Между тем завоевания революции можно было спасти лишь путём спасения России, а для этого прежде всего необходимо создать действительную сильную власть и оздоровить тыл. Генерал Корнилов предъявил ряд требований, проведение коих в жизнь затягивалось. При таких условиях генерал Корнилов, не преследуя никаких личных честолюбивых замыслов и опираясь на ясно выраженное сознание всей здоровой части общества и армии, требовавшее скорейшего создания крепкой власти для спасения Родины, а с ней и завоеваний революции, считал необходимыми более решительные меры, кои обеспечили бы водворение порядка в стране...»

Используя отрывок и знания по истории, выберите в приведённом списке три верных суждения.

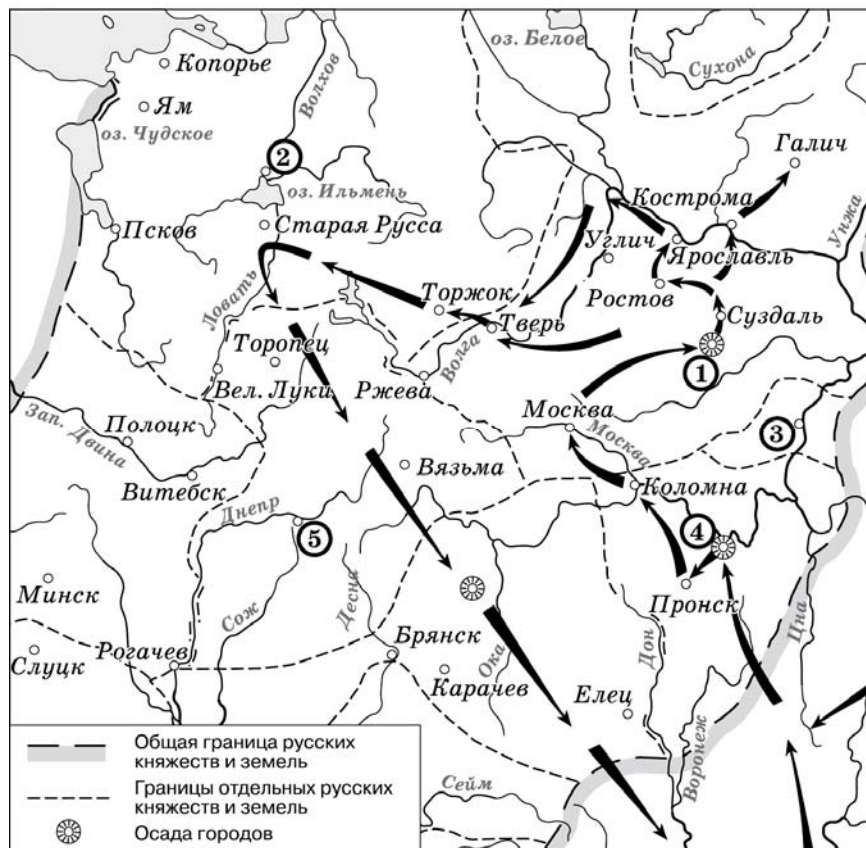
Запишите в таблицу **цифры**, под которыми они указаны.

- 1) Описанные в телеграмме события произошли в 1916 г.
- 2) Правительство, о котором идёт речь в телеграмме, называлось СНК.
- 3) Автор телеграммы – сторонник продолжения войны с Германией.
- 4) Автор телеграммы поддерживает действия генерала Корнилова.
- 5) Большевики поддерживали действия генерала Корнилова.
- 6) «Решительные меры» генерала Корнилова, которые указаны в телеграмме, не были осуществлены.

Ответ:

--	--	--

Рассмотрите схему и выполните задания 13–16.



13 Напишите имя главнокомандующего, осуществившего поход, обозначенный на схеме стрелками.

Ответ: _____.

14 Напишите название города, обозначенного на схеме цифрой «1».

Ответ: _____.

15 Укажите название города, обозначенного на схеме цифрой, где в период данного похода существовала республиканская форма правления.

Ответ: _____.

16 Какие суждения, относящиеся к событиям, обозначенным на схеме, являются верными? Выберите три суждения из шести предложенных. Запишите в таблицу **цифры**, под которыми они указаны.

- 1) Завоеватели вторглись в пределы Руси в зимний период.
- 2) Ни один из городов, захваченных завоевателями, не выдержал осады более одной недели.
- 3) Поход, обозначенный на схеме стрелками, длился около трёх лет.
- 4) Одним из последствий событий, обозначенных на схеме, было начало раздробленности Древнерусского государства.
- 5) В результате событий, обозначенных на схеме, русские земли попали в зависимость.
- 6) Военачальник, поход которого обозначен на схеме, является основателем государства.

Ответ:

--	--	--

17 Установите соответствие между памятниками культуры и их краткими характеристиками: к каждой позиции первого столбца подберите соответствующую позицию из второго столбца.

ПАМЯТНИКИ КУЛЬТУРЫ	ХАРАКТЕРИСТИКИ
А) «Слово о полку Игореве»	1) Автор – И.Е. Репин.
Б) «Домострой»	2) Произведение было написано в период руководства СССР Л.И. Брежнева.
В) картина «Боярыня Морозова»	3) Автор – священник Сильвестр.
Г) роман «Тихий Дон»	4) Описываемые события произошли в XII в.
	5) Автору была присуждена Нобелевская премия.
	6) Сюжет иллюстрирует события церковного раскола.

Запишите в таблицу выбранные цифры под соответствующими буквами.

Ответ:

А	Б	В	Г

Рассмотрите изображение и выполните задания 18, 19.






18 Какие суждения о скульптуре, изображённой на фотографии, являются верными? Выберите два суждения из пяти предложенных. Запишите в таблицу **цифры**, под которыми они указаны.

- 1) Скульптура была создана в период после Великой Отечественной войны.
- 2) В настоящее время скульптура находится в г. Санкт-Петербурге.
- 3) На скульптуре показаны орудия труда, изображавшиеся на гербе СССР.
- 4) Автором скульптуры является П.К. Клодт.
- 5) Скульптура символизировала единство рабочего класса и крестьянства.

Ответ:

19 Какое из зданий, представленных ниже, было построено в годы руководства страной того же государственного деятеля, при котором была создана данная скульптура? В ответе запишите цифру, под которой указано это здание.



Ответ:

Не забудьте перенести все ответы в бланк ответов № 1.

Часть 2

Для записи ответов на задания этой части (20–25) используйте БЛАНК ОТВЕТОВ № 2. Запишите сначала номер задания (20, 21 и т. д.), а затем развёрнутый ответ на него. Ответы записывайте чётко и разборчиво.

Прочтите отрывок из исторического источника и кратко ответьте на вопросы 20–22. Ответы предполагают использование информации из источника, а также применение исторических знаний по курсу истории соответствующего периода.

Из резолюции XIX Всесоюзной партийной конференции

«XIX Всесоюзная партийная конференция... констатирует: выработанный партией на апрельском Пленуме ЦК и XXVII съезде партии стратегический курс на всестороннее и революционное обновление советского общества и ускорение его социально-экономического развития неуклонно претворяется в жизнь. Приостановлено сползание страны к экономическому и социально-политическому кризису...

Начался процесс оздоровления экономики страны, её поворот к удовлетворению насущных потребностей людей. Набирают силу новые методы хозяйствования. В соответствии с Законом о государственном предприятии (объединении) идёт перевод объединений и предприятий на хозрасчёт и самоокупаемость. Разработан, широко обсуждён и принят Закон о кооперации. Входят в жизнь новые, прогрессивные формы внутрипроизводственных трудовых отношений на основе подряда и аренды, а также индивидуальная трудовая деятельность. Идёт перестройка организационных структур управления, направленная на создание благоприятных условий для эффективного хозяйствования первичных звеньев экономики.

Развёрнутая по инициативе партии работа позволила возобновить рост реальных доходов трудящихся. Реализуются практические меры по увеличению производства продуктов питания и предметов потребления, расширению жилищного строительства. Осуществляются реформы образования и здравоохранения. Духовная жизнь становится мощным фактором прогресса страны. Значительная работа проведена по переосмыслению современных реальностей мирового развития, обновлению и приданию динамизма внешней политике. Таким образом, перестройка всё глубже входит в жизнь советского общества, оказывает на него всё возрастающее преобразующее воздействие».

20 Укажите десятилетие, в рамках которого происходили события, упомянутые в резолюции. Укажите фамилию политического деятеля, являвшегося руководителем страны в период, когда происходили эти события. Укажите название периода истории СССР, когда этот политический деятель был руководителем страны.

21 Какие направления внутренней политики КПСС и государства названы в резолюции? Укажите любые три направления.

22 Каков итог реализации рассматриваемого стратегического курса партии? Привлекая исторические знания, укажите не менее двух причин, приведших к такому итогу.

23 Многие города Древней Руси возникали на берегах рек. Объясните, в чём состояли преимущества такого расположения города (приведите три объяснения).

24 В исторической науке существуют дискуссионные проблемы, по которым высказываются различные, часто противоречивые точки зрения. Ниже приведена одна из спорных точек зрения, существующих в исторической науке.

«Внутренняя политика Александра III способствовала прогрессивному развитию социальной и экономической сфер общественной жизни».

Используя исторические знания, приведите два аргумента, которыми можно подтвердить данную точку зрения, и два аргумента, которыми можно опровергнуть её. При изложении аргументов обязательно используйте исторические факты.

Ответ запишите в следующем виде.

Аргументы в подтверждение:

- 1) ...
- 2) ...

Аргументы в опровержение:

- 1) ...
- 2) ...

25 Вам необходимо написать историческое сочинение об ОДНОМ из периодов истории России:

1) 1019–1054 гг.; 2) 1801–1812 гг.; 3) 1917–1922 гг.

В сочинении необходимо:

- указать не менее двух значимых событий (явлений, процессов), относящихся к данному периоду истории;
- назвать две исторические личности, деятельность которых связана с указанными событиями (явлениями, процессами), и, используя знание исторических фактов, охарактеризовать роль названных Вами личностей в этих событиях (явлениях, процессах);
- указать не менее двух причинно-следственных связей, существовавших между событиями (явлениями, процессами) в рамках данного периода истории.

Используя знание исторических фактов и (или) мнений историков, дайте одну оценку значения данного периода для истории России. В ходе изложения необходимо корректно использовать исторические термины, понятия, относящиеся к данному периоду.

Система оценивания экзаменационной работы по истории

Часть 1

Задание с кратким ответом считается выполненным верно, если правильно указаны требуемое слово (словосочетание), цифра или последовательность цифр.

Полный правильный ответ на каждое из заданий 1, 3, 4, 8, 10, 13–15, 18, 19 оценивается 1 баллом; неполный, неверный ответ или его отсутствие – 0 баллов.

Полный правильный ответ на каждое из заданий 2, 5–7, 9, 12, 16, 17 оценивается 2 баллами; если допущена одна ошибка – 1 баллом; если допущено две и более ошибки или ответ отсутствует – 0 баллов.

Полный правильный ответ на задание 11 оценивается 3 баллами; если допущена одна ошибка – 2 баллами; допущено две-три ошибки – 1 баллом; допущено четыре и более ошибки или ответ отсутствует – 0 баллов.

№ задания	Ответ
1	321
2	2643
3	4
4	земщина
5	5314
6	3625
7	246
8	453
9	4356
10	Хрущёв; Хрущев
11	673528
12	346
13	Батый
14	Владимир
15	Новгород
16	156
17	4365
18	35
19	3

Часть 2

Критерии оценивания заданий с развёрнутым ответом

Из резолюции XIX Всесоюзной партийной конференции

«XIX Всесоюзная партийная конференция... констатирует: выработанный партией на апрельском Пленуме ЦК и XXVII съезде партии стратегический курс на всестороннее и революционное обновление советского общества и ускорение его социально-экономического развития неуклонно претворяется в жизнь. Приостановлено сползание страны к экономическому и социально-политическому кризису...

Начался процесс оздоровления экономики страны, её поворот к удовлетворению насущных потребностей людей. Набирают силу новые методы хозяйствования. В соответствии с Законом о государственном предприятии (объединении) идёт перевод объединений и предприятий на хозрасчёт и самокупаемость. Разработан, широко обсуждён и принят Закон о кооперации. Входят в жизнь новые, прогрессивные формы внутрипроизводственных трудовых отношений на основе подряда и аренды, а также индивидуальная трудовая деятельность. Идёт перестройка организационных структур управления, направленная на создание благоприятных условий для эффективного хозяйствования первичных звеньев экономики.

Развёрнутая по инициативе партии работа позволила возобновить рост реальных доходов трудящихся. Реализуются практические меры по увеличению производства продуктов питания и предметов потребления, расширению жилищного строительства. Осуществляются реформы образования и здравоохранения. Духовная жизнь становится мощным фактором прогресса страны. Значительная работа проведена по переосмыслению современных реальностей мирового развития, обновлению и приданию динамизма внешней политике. Таким образом, перестройка всё глубже входит в жизнь советского общества, оказывает на него всё возрастающее преобразующее воздействие».

- 20** Укажите десятилетие, в рамках которого происходили события, упомянутые в резолюции. Укажите фамилию политического деятеля, являвшегося руководителем страны в период, когда происходили эти события. Укажите название периода истории СССР, когда этот политический деятель был руководителем страны.

Содержание верного ответа и указания по оцениванию (допускаются иные формулировки ответа, не искажающие его смысла)	Баллы
Правильный ответ должен содержать следующие <u>элементы</u> : 1) десятилетие – 1980-е гг.; 2) руководитель страны – М.С. Горбачёв; 3) название периода – «перестройка»	
Правильно указаны десятилетие, руководитель страны, название периода	2
Правильно указаны любые два элемента	1
Правильно указан один любой элемент. ИЛИ Ответ неправильный	0
<i>Максимальный балл</i>	2

- 21** Какие направления внутренней политики КПСС и государства названы в резолюции? Укажите любые три направления.

Содержание верного ответа и указания по оцениванию (допускаются иные формулировки ответа, не искажающие его смысла)	Баллы
Могут быть указаны следующие <u>направления</u> : 1) введение эффективных методов хозяйствования; 2) повышение реальных доходов трудящихся; 3) увеличение производства потребительских товаров; 4) расширение жилищного строительства; 5) реформы образования и здравоохранения. Могут быть указаны другие направления	
Правильно указаны три направления	2
Правильно указаны два направления	1
Правильно указано одно направление. ИЛИ Ответ неправильный	0
<i>Максимальный балл</i>	2

- 22** Каков итог реализации рассматриваемого стратегического курса партии? Привлекая исторические знания, укажите не менее двух причин, приведших к такому итогу.

Содержание верного ответа и указания по оцениванию (допускаются иные формулировки ответа, не искажающие его смысла)	Баллы
Правильный ответ должен содержать следующие <u>элементы</u> : 1) <u>итог</u> , например: – неудача в преодолении кризиса; – распад СССР; 2) <u>причины</u> , например: – ограниченность возможностей реформирования командной модели экономики; – политические разногласия в обществе; – сепаратизм союзных республик. Итог может быть сформулирован иначе. Могут быть указаны другие причины	
Правильно сформулирован итог, указаны две причины	2
Правильно сформулирован итог, указана одна причина	1
Правильно сформулирован только итог. ИЛИ Правильно указаны одна-две причины. ИЛИ Ответ неправильный	0
<i>Максимальный балл</i>	2

- 23** Многие города Древней Руси возникали на берегах рек. Объясните, в чём состояли преимущества такого расположения города (приведите три объяснения).

Содержание верного ответа и указания по оцениванию (допускаются иные формулировки ответа, не искажающие его смысла)	Баллы
Могут быть приведены следующие <u>объяснения</u> : 1) расположение города на берегу реки облегчало его торговые связи, поскольку в Древней Руси водные пути зачастую были более удобными, чем сухопутные; 2) расположение на берегу (особенно высоком) реки делало город менее уязвимым для врагов в случае штурма; 3) город, расположенный на берегу реки, имел больше шансов успешно справиться с пожарами, поскольку большинство построек в Древней Руси были деревянными. Могут быть приведены другие объяснения	
Правильно приведены три объяснения	3
Правильно приведены два объяснения	2
Правильно приведено одно объяснение	1
Приведены рассуждения общего характера, не соответствующие требованию задания. ИЛИ Ответ неправильный	0
<i>Максимальный балл</i>	3

24 В исторической науке существуют дискуссионные проблемы, по которым высказываются различные, часто противоречивые точки зрения. Ниже приведена одна из спорных точек зрения, существующих в исторической науке.

«Внутренняя политика Александра III способствовала прогрессивному развитию социальной и экономической сфер общественной жизни».

Используя исторические знания, приведите два аргумента, которыми можно подтвердить данную точку зрения, и два аргумента, которыми можно опровергнуть её. При изложении аргументов обязательно используйте исторические факты.

Ответ запишите в следующем виде.

Аргументы в подтверждение:

- 1) ...
- 2) ...

Аргументы в опровержение:

- 1) ...
- 2) ...

Содержание верного ответа и указания по оцениванию (допускаются иные формулировки ответа, не искажающие его смысла)	Баллы
<p>Правильный ответ должен содержать <u>аргументы</u>:</p> <p>1) <u>в подтверждение</u>, например:</p> <ul style="list-style-type: none"> – при Александре III в деревне постепенно изживались остатки крепостничества (снижение выкупных платежей, ликвидация временнообязанного состояния крестьян); – при Александре III постепенно меняется устаревшая система налогообложения (отмена подушной подати); – в 1882 г. правительство учредило Крестьянский поземельный банк, который выдавал ссуды на покупку земли крестьянам, что способствовало распространению частной поземельной собственности среди крестьян; – в период правления Александра III начинает формироваться рабочее законодательство (законы об ограничении труда подростков и женщин на производстве, о правилах найма и увольнения рабочих); – протекционистская политика правительства Александра III способствовала бурному развитию промышленности (завершился промышленный переворот; в 2 раза выросло количество паровых двигателей, увеличилась добыча угля и нефти; в ряде регионов страны выросли крупные промышленные центры (Баку, Юзовка, Ижевск, Орехово-Зуево) и др.); – в период правления Александра III отмечен интенсивный рост протяжённости железных дорог, начато строительство Транссибирской магистрали; 	

<p>2) <u>в опровержение</u>, например:</p> <ul style="list-style-type: none"> – законодательство Александра III в отношении земств резко снизило долю недворян в их составе, сузив таким образом социальную базу земств; – по новому «Городовому положению» был значительно повышен имущественный ценз для участия в выборах в городские думы и, таким образом, от участия в городском самоуправлении были отстранены не только трудящиеся массы города, но и мелкая буржуазия, что вступало в противоречие с быстрым процессом урбанизации, проходившим в тот период; – изменения в системе образования (подчинение сельских школ Синоду, циркуляр «о кухаркиных детях») резко сузили возможности для получения образования выходцам из низших сословий и препятствовали удовлетворению нужд быстрорастущей российской экономики в образованных специалистах; – при Александре III был учреждён Дворянский земельный банк, который выдавал ссуды помещикам под залог их земель на льготных условиях; поддержка дворян, которые, как правило, «продали» выданные банком деньги, а не вкладывали их в производство, тормозила процесс перехода помещичьих земель к состоятельным крестьянам, эффективнее использовавшим сельскохозяйственные угодья; – законодательство Александра III консервировало крестьянскую общину (запрещались семейные разделы и ограничивался досрочный выкуп наделов), что тормозило развитие деревни. <p>Могут быть приведены другие аргументы</p>	
Приведены два аргумента в подтверждение и два в опровержение оценки	4
Приведены два аргумента в подтверждение и один в опровержение оценки. ИЛИ Приведены один аргумент в подтверждение и два в опровержение оценки	3
Приведены один аргумент в подтверждение и один в опровержение оценки	2
Приведены только два аргумента в подтверждение оценки. ИЛИ Приведены только два аргумента в опровержение оценки	1
Приведён только один любой аргумент. ИЛИ Приведены только факты, иллюстрирующие события (явления, процессы), связанные с данной точкой зрения, но не являющиеся аргументами. ИЛИ Приведены рассуждения общего характера, не соответствующие требованию задания. ИЛИ Ответ неправильный	0
<i>Максимальный балл</i>	4

25 Вам необходимо написать историческое сочинение об ОДНОМ из периодов истории России:

1) 1019–1054 гг.; 2) 1801–1812 гг.; 3) 1917–1922 гг.

В сочинении необходимо:

- указать не менее двух значимых событий (явлений, процессов), относящихся к данному периоду истории;
- назвать две исторические личности, деятельность которых связана с указанными событиями (явлениями, процессами), и, используя знание исторических фактов, охарактеризовать роль названных Вами личностей в этих событиях (явлениях, процессах);
- указать не менее двух причинно-следственных связей, существовавших между событиями (явлениями, процессами) в рамках данного периода истории.

Используя знание исторических фактов и (или) мнений историков, дайте одну оценку значения данного периода для истории России. В ходе изложения необходимо корректно использовать исторические термины, понятия, относящиеся к данному периоду.

В случае, когда исторические события (явления, процессы) не указаны или все указанные исторические события (явления, процессы) не относятся к выбранному периоду, ответ оценивается **0 баллов** (по каждому из критериев К1–К7 выставляется 0 баллов).

	Критерии оценивания	Баллы
К1	Указание событий (явлений, процессов)	2
	Правильно указаны два события (явления, процесса)	2
	Правильно указано одно событие (явление, процесс)	1
	События (явления, процессы) не указаны или указаны неверно	0
К2	Исторические личности и их роль в указанных событиях (явлениях, процессах) данного периода истории	2
	Правильно названы две исторические личности, правильно охарактеризована роль этих личностей в указанных событиях (явлениях, процессах) данного периода истории России	2
	Правильно названы одна-две исторические личности, правильно охарактеризована роль только одной личности в указанных событиях (явлениях, процессах) данного периода истории России	1
	Правильно названы одна-две исторические личности, их роль в указанных событиях (явлениях, процессах) данного периода истории России охарактеризована неправильно.	0
	ИЛИ Правильно названы одна-две исторические личности, их роль в указанных событиях (явлениях, процессах) данного периода истории России не охарактеризована.	
	ИЛИ	

	Приведены рассуждения общего характера, не соответствующие требованию задания. ИЛИ Исторические личности названы неверно. ИЛИ Исторические личности не названы	
К3	Причинно-следственные связи	2
	Правильно указаны две причинно-следственные связи, существовавшие между событиями (явлениями, процессами)	2
	Правильно указана одна причинно-следственная связь, существовавшая между событиями (явлениями, процессами)	1
	Причинно-следственные связи указаны неверно. ИЛИ Причинно-следственные связи не указаны	0
К4	Оценка значения периода для истории России	1
	Дана оценка значения периода для истории России с опорой на исторические факты и (или) мнения историков	1
	Оценка значения периода для истории России сформулирована в общей форме или на уровне обыденных представлений, без привлечения исторических фактов и (или) мнений историков. ИЛИ Оценка значения периода для истории России не дана	0
К5	Использование исторической терминологии	1
	При изложении корректно использована историческая терминология	1
	Все исторические термины, понятия использованы некорректно. ИЛИ Исторические термины, понятия не использованы	0
К6	Наличие фактических ошибок. <i>1 или 2 балла по критерию К6 может быть выставлено только в случае, если по критериям К1–К4 выставлено в сумме не менее 4 баллов</i>	2
	В историческом сочинении отсутствуют фактические ошибки	2
	Допущена одна фактическая ошибка	1
	Допущены две или более фактические ошибки	0
К7	Форма изложения. <i>1 балл по критерию К7 может быть выставлен только в случае, если по критериям К1–К4 выставлено в сумме не менее 4 баллов</i>	1
	Ответ представлен в виде исторического сочинения (последовательное, связанное изложение материала)	1
	Ответ представлен в виде отдельных отрывочных положений	0
<i>Максимальный балл</i>		11

В соответствии с Порядком проведения государственной итоговой аттестации по образовательным программам среднего общего образования (приказ Минобрнауки России от 26.12.2013 № 1400 зарегистрирован Минюстом России 03.02.2014 № 31205)

«61. По результатам первой и второй проверок эксперты независимо друг от друга выставляют баллы за каждый ответ на задания экзаменационной работы ЕГЭ с развёрнутым ответом...

62. В случае существенного расхождения в баллах, выставленных двумя экспертами, назначается третья проверка. Существенное расхождение в баллах определено в критериях оценивания по соответствующему учебному предмету.

Эксперту, осуществляющему третью проверку, предоставляется информация о баллах, выставленных экспертами, ранее проверявшими экзаменационную работу».

Если расхождение составляет 2 и более балла за выполнение любого из заданий 20–25, то третий эксперт проверяет только ответы на те задания (из заданий 20–25), которые вызвали столь существенное расхождение.

Если расхождение составляет 2 и более балла по любому из критериев К1, К2, К3 и К6 задания 25, то третий эксперт проверяет ответ только по тем критериям, которые вызвали столь существенное расхождение.